

SCHRONIENIE POD LODEM

Niedźwiedź polarny [...]

U tego gatunku sposób spędzania najzimniejszej pory roku zależy od płci. Samce wędrują na południe, natomiast samice chronią się przed chłodem, drążąc charakterystyczne lodowe jamy. Mają one kilka metrów długości i składają się z dwóch „izb”. Pomieszczenie dolne jest zazwyczaj wąskie i niskie, zaś komora górna o wiele obszerniejsza. Pośrodku znajduje się wąski komin wentylacyjny. Wyższe położenie sprawia, że właśnie w górnej „izbie” gromadzi się i zatrzymuje ogrzane powietrze. Jest to właściwy barłóg, gdzie ciężarna niedźwiedzica zapada w sen zimowy, a później rodzi dwoje młodych wielkości świnki morskiej. Sama zajmuje się ich wychowaniem, przez dwa lata ucząc niedźwiedziątka sztuki przetrwania w surowych warunkach Arktyki.

Dorosłe samce są samotnikami. Nie przerywają aktywnego trybu życia nawet w czasie długiej polarnej nocy, intensywnie polując zwłaszcza na foki przy trzydziestostopniowym mrozie i huraganowych wichrach.

1. Jak spędzają najzimniejszą porę roku niedźwiedzie, a jak niedźwiedzice.

.....
.....
.....

2. Poszukaj opisu lodowej jamy w tekście. Narysuj ją według opisu.



3. Ile młodych niedźwiedziątek rodzi mama niedźwiedzica? Podkreśl odpowiedź linią falistą.

a) jedno

b) dwoje

c) troje

4. Gdzie w lodowej jamie jest najcieplej? Narysuj gwiazdkę obok odpowiedzi.

a) w pomieszczeniu dolnym

b) w kominie wentylacyjnym

c) w komorze górnej

5. Kto wychowuje małe niedźwiedziątka? Zakreśl odpowiedź

a) mama i tata niedźwiedź

b) sama mama niedźwiedzica

c) cała rodzina niedźwiedzia

6. Na jakie zwierzęta najczęściej polują niedźwiedzie? Zamaluj właściwą odpowiedź.

na pingwiny

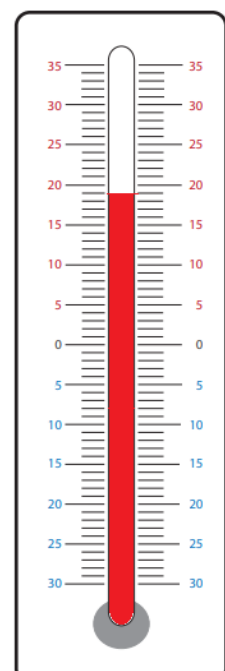
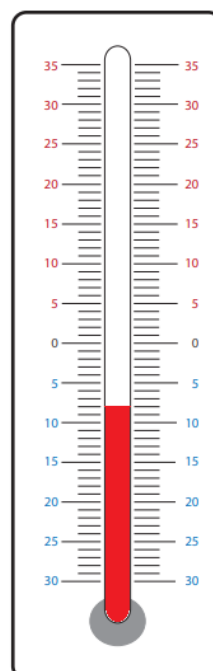
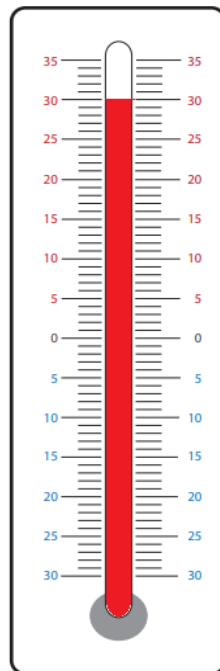
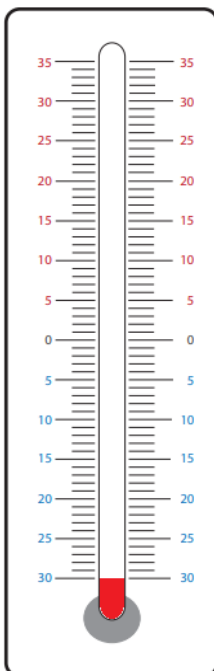
na morsy

na foki

na inne
niedźwiedzie

na ryby

7. Zaznacz termometr wskazujący temperaturę, przy której niedźwiedzie nie przerywają polowania.



Oceń swoją pracę! Postaw „+” w odpowiednich miejscach w tabelce.

	Doskonale!	Dobrze!	Muszę jeszcze popracować!
Czytam ze zrozumieniem tekst			
Wyszukuję w tekście potrzebne informacje			
Rysuję jamę na podstawie opisu z tekstu			
Wskazuję termometr, przedstawiający właściwą temperaturę			