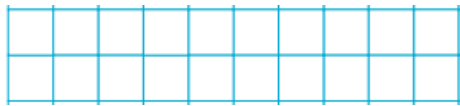


1. Po podwórku spacerowały 3 kury i 4 kurczęta. Ile jest razem?



Razem jest 



 kur i kurcząt.

2. Pływało 7 kaczek. Z wody wyszły 3 kaczki. Ile kaczek pływa po stawie?



Po stawie pływają 

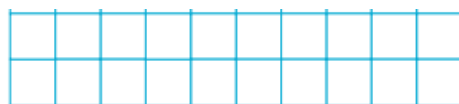



 kaczki.

3. To są jabłka Oli i Adama.

A to są jabłka mamy.

Ile jabłek jest razem?







Razem jest 



 jabłek.

Oceń swoją pracę! Pokoloruj gwiazdkę w odpowiednich miejscach w tabelce.

	<b>Umiem!</b>	<b>Muszę jeszcze popracować!</b>
<b>Liczę, ile przedmiotów jest na rysunku</b>		
<b>Uważnie czytam treść zadania i wyszukuję w nim potrzebne dane</b>		
<b>Tworzę właściwe działanie, zapisuję wynik, uzupełniam odpowiedź</b>	