

Dodawanie i odejmowanie w zakresie 10. Zadania tekstowe. Klasa 1.

1. Ułóż zadania do rysunków ze zwierzętami. Oblicz.



$$7 + 1 = \square$$



$$5 + 3 = \square$$



$$\square + \square = \square$$



$$\square + \square = \square$$



$$\square - \square = \square$$



$$\square - \square = \square$$



$$\square - \square = \square$$



$$\square - \square = \square$$

2. Kamil i Natalka robili kukielfki. Kamil zrobił 5 kukielfek, a Natalka 3. Ile kukielfek zrobili razem?



Razem zrobili

 kukielfek.







3. Pani zebrała 8 kukielfek. Na wystawie zawiesiła 3 kukielfki. Ile kukielfek zostało pani?



Pani zostało

 kukielfek.

Oceń swoją pracę! Pokoloruj gwiazdkę w odpowiednich miejscach w tabelce.

	Umiem!	Muszę jeszcze popracować!
Liczę, ile jest przedmiotów i zapisuję ich ilość liczbą		
Tworzę działania i obliczam wyniki działań na dodawanie		
Uważnie czytam treść zadania i wyszukuję w nim potrzebne dane		
Tworzę właściwe działanie, zapisuję wynik, uzupełniam odpowiedź	