

Dodawanie w zakresie 7. Zadania tekstowe. Klasa 1

1. Na półce stały 4 słoiki z farbą fioletową i 2 słoiki z różową. Ile słoików z farbami stało na półce?



Na półce stało  słoików z farbami.

2. Przeczytaj zadanie. Wybierz spod kreski odpowiednie pytanie do zadania i zapisz je w liniaturze.

Maks miał 4 słoiki z farbami.

Jego brat ma 3 słoiki farb.

$$4 + 3 = 7$$

Razem mają 7 słoików farb.

Ile słoików zostało Maksowi?

Ile słoików farb mają razem?









3. Dokończ obliczanie.



$$5 + \square = \square$$



Oceń swoją pracę! Pokoloruj gwiazdkę w odpowiednich miejscach w tabelce.

	Umiem!	Muszę jeszcze popracować!
Liczę, ile jest przedmiotów i zapisuję ich ilość liczbą		
Tworzę działania i obliczam wyniki działań na dodawanie		
Uważnie czytam treść zadania i wyszukuję w nim potrzebne dane		
Tworzę właściwe działanie, zapisuję wynik, uzupełniam odpowiedź		
Wybieram i zapisuję pytanie, pasujące do treści zadania	