



Dodawanie w zakresie 10. Klasa 1

1. Oblicz.



$$8 = 5 + \square$$



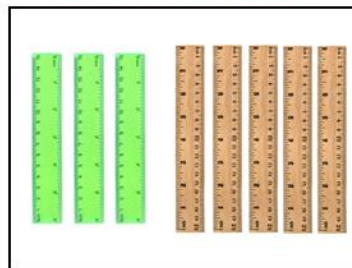
$$8 = 6 + \square$$



$$8 = \square + \square$$



$$8 = \square + \square$$



$$8 = \square + \square$$



$$8 = 8 + \square$$

2. Napisz brakujące liczby.



$$8 = 2 + 4 + \square$$



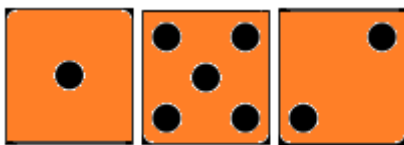
$$8 = 2 + \square + \square$$



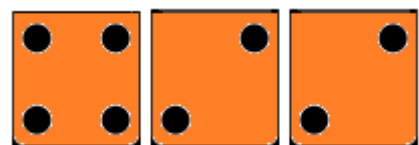
$$8 = \square + \square + \square$$



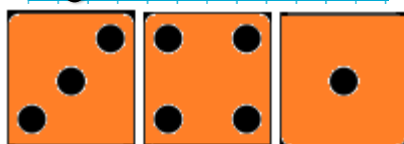
$$8 = \square + \square + \square$$



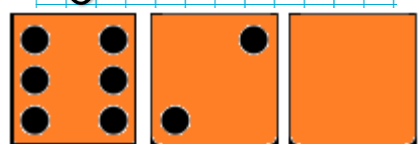
$$8 = \square + \square + \square$$



$$8 = \square + \square + \square$$



$$8 = \square + \square + \square$$



$$8 = \square + \square + \square$$

Oceń swoją pracę! Pokoloruj gwiazdkę w odpowiednich miejscach w tabelce.

	<b>Umiem!</b>	<b>Muszę jeszcze popracować!</b>
<b>Liczę, ile jest przedmiotów i zapisuję ich ilość liczbą</b>		
<b>Uzupełniam brakujące liczby w działaniach</b>		