

Dodawanie i odejmowanie w zakresie 7. Klasa 1.

1. Dokończ według wzoru.

$$7 = 1 + 2 + 4$$

$$7 = 5 + \quad + \quad$$

$$7 = \quad$$

$$7 = \quad$$



2. Oblicz.

$$6 + 1 =$$

$$7 - 1 =$$

$$7 - 2 =$$

$$5 + 2 =$$

$$7 - 3 =$$

$$4 + 3 =$$

$$7 - 5 =$$

$$2 + 5 =$$

$$7 - 6 =$$

$$4 + 2 =$$

$$5 - 3 =$$

$$6 - 4 =$$









3. Rozwiąż zadania i napisz odpowiedzi.

Jaś i Antek kupili 6 widokówek. Ignaś dokupił 1 widokówkę. Ile widokówek mają razem?



widokówek.

Oceń swoją pracę! Pokoloruj gwiazdkę w odpowiednich miejscach w tabelce.

	Umiem!	Muszę jeszcze popracować!
Liczę, ile jest przedmiotów i zapisuję ich ilość liczbą		
Uzupełniam działania na dodawanie		
Obliczam wyniki działań na dodawanie i odejmowanie		
Uważnie czytam treść zadania i wyszukuję w nim potrzebne dane		
Tworzę właściwe działanie, zapisuję wynik, uzupełniam odpowiedź	