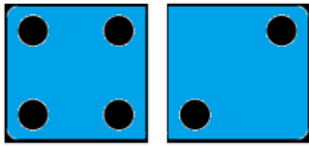
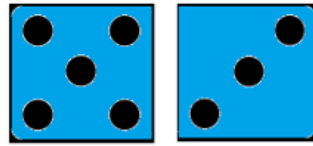


Dodawanie i odejmowanie w zakresie 10. Klasa 1.

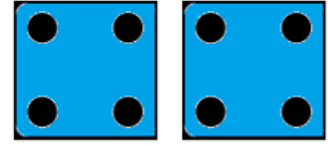
1. Oblicz.




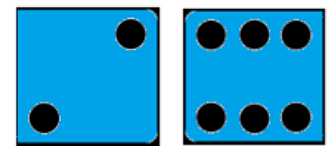

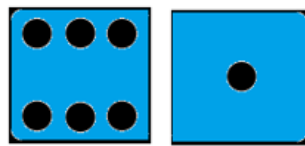

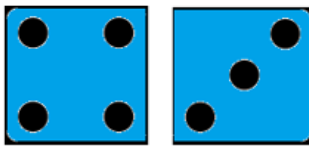
$$4 + 2 =$$
$$6 - 4 =$$



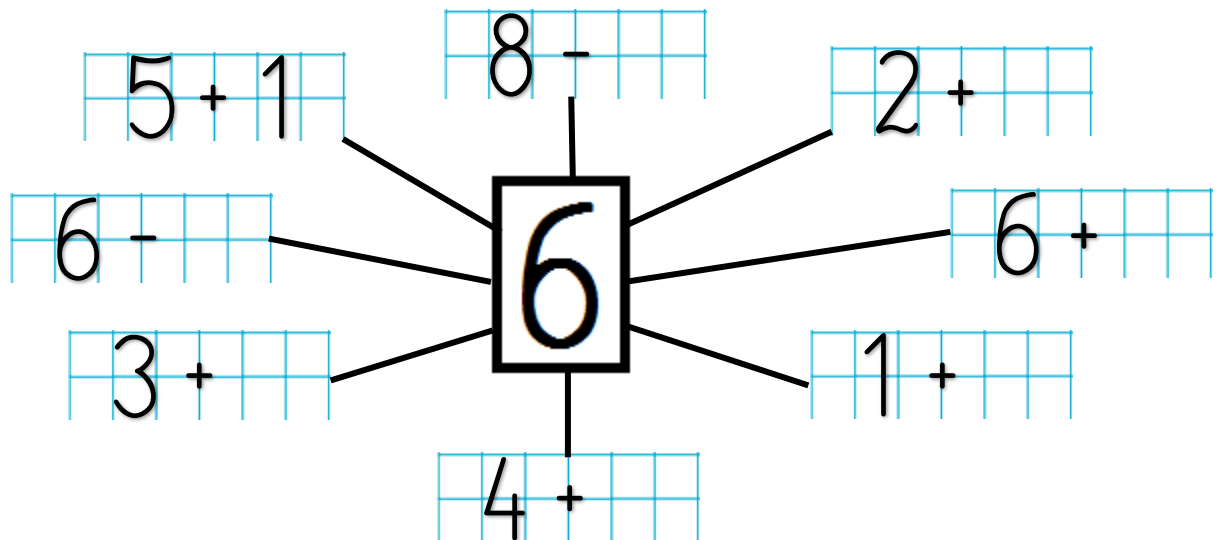
$$5 + 3 =$$
$$8 - 5 =$$



$$4 + 4 =$$
$$8 - 4 =$$



2. Dopisz brakujące liczby.











3. W szafie były 4 koszule szare i 4 białe. Ile koszul było w szafie?



W szafie było  koszul.

Oceń swoją pracę! Pokoloruj gwiazdkę w odpowiednich miejscach w tabelce.

	Umiem!	Muszę jeszcze popracować!
Liczę, ile jest kropek na kostkach i zapisuję ich ilość liczbą		
Tworzę działania i obliczam wyniki działań na dodawanie		
Uzupełniam brakujące liczby w działaniach		
Uważnie czytam treść zadania i wyszukuję w nim potrzebne dane		
Tworzę właściwe działanie, zapisuję wynik, uzupełniam odpowiedź	