




Utrwalenie tabliczki mnożenia w zakresie 100. Klasa II

1. Oblicz



2. Adaś umieścił 24 króliki w klatkach, po 6 królików w każdej. Ile klatek zajęły króliki?

Obliczenie:

Odp.:

3. Rolnicy załadowali 15 worków pszenicy na 3 wozy, na każdy wóz po tyle samo worków. Po ile worków pszenicy jest na każdym wozie?



Obliczenie:

Odp.:

Oceń swoją pracę! Postaw „+” w odpowiednich miejscach w tabelce.

	Doskonale!	Dobrze!	Muszę jeszcze popracować!
Obliczam iloczyny działań			
Obliczam ilorazy działań			
Obliczam działania łączne, pamiętając o kolejności wykonywania działań			
Uważnie odczytuję treść zadania tekstowego i wyszukuję w nim potrzebne dane			
Tworzę odpowiednie działanie, obliczam je i zapisuję odpowiedź			