



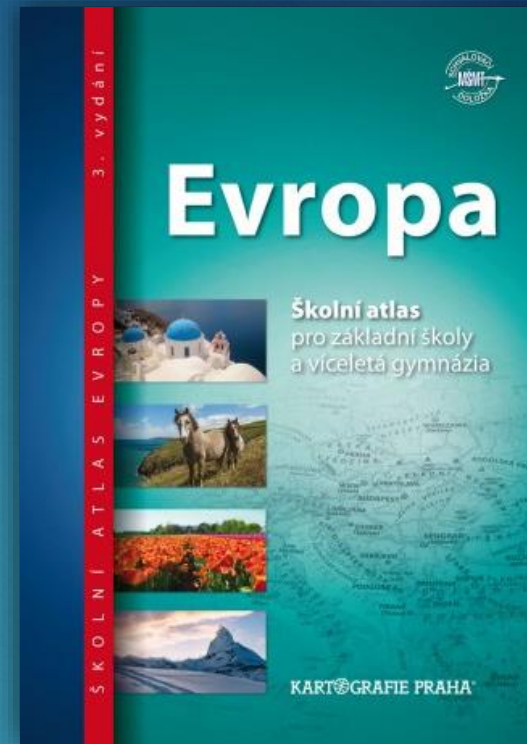
ZEMĚPIS – 7. A

období: od 26. 5. do 27. 5.

Zadání

- ▶ podívejte se na jednotlivé snímky, zpracujte zadané úkoly
- ▶ vše, co je za snímkem „**zápis do sešitu**“ si zapište
- ▶ fotografie, schémata, obrázky, mapy jsou pouze **ilustrační**, ty nepřekreslujte
- ▶ v textu narazíte na žluté otazníky „**?**“, místo nich doplníte text nebo čísla a podobně
- ▶ chybějící informace doplňte s pomocí učebnice, atlasu, internetu a dalších libovolných zdrojů

Práce s atlasem




- ▶ v **atlase** Evropy na **politické mapě** najděte **státy střední** Evropy a jejich hlavní města, viz následující snímek

Státy střední Evropy + hlavní města

- ▶ **NĚMECKO** – Berlín
- ▶ **RAKOUSKO** – Vídeň
- ▶ **ŠVÝCARSKO** – Bern
- ▶ **POLSKO** – Varšava
- ▶ **ČESKO** – Praha
- ▶ **SLOVENSKO** – Bratislava
- ▶ **MAĎARSKO** – Budapešť
- ▶ **SLOVINSKO** – Lublaň
- ▶ **LICHTENŠTEJNSKO** – Vaduz

Vlajky zemí střední Evropy



ZÁPIS DO SEŠITU



Severní Evropa



Západní Evropa



Jižní Evropa



Střední Evropa



Jihovýchodní Evropa



Východní Evropa

STŘEDNÍ EVROPA



STÁTY

▶ **NĚMECKO** – ? – R

Alpské země:

▶ **RAKOUSKO** – Vídeň – R

▶ ? – Bern – R

▶ **LICHTENŠTEJNSKO** – ? – M

▶ **POLSKO** – Varšava – R

▶ **ČESKO** – Praha – R

▶ **SLOVENSKO** – Bratislava – R

▶ **MAĎARSKO** – ? – R

▶ **SLOVINSKO** – Lublaň – R

Základní údaje

- ▶ **poloha:** přímořská i vnitrozemní
- ▶ **povrch:** rozsáhlé nížiny i vysoká pohoří
 - ▶ **nížiny:** Severoněmecká, Velkopolská, Velká Uherská
 - ▶ **pohoří:** Alpy, Karpaty, Česká vysočina
 - ▶ **řeky:** Rýn, Dunaj, Labe, Odra, Visla, Tisa
 - ▶ **lesy:** nižší polohy – většinou vykáceny – nahrazeny zemědělskými plochami
- ▶ **podnebí:** mírné

Základní údaje – pokračování

▶ **hospodářství:**

- ▶ **Německo** – evropská hospodářská velmoc

- ▶ západní část – vyspělejší – Německo, Rakousko, Švýcarsko

- ▶ východní část – přechod na tržní hospodářství – vyspělá

- ▶ průmysl – strojírenství

- ▶ zemědělství – Polsko, Maďarsko

- ▶ cestovní ruch – Alpy, historická města

▶ **obyvatelstvo:** Germáni, Slované, Maďaři

▶ **doprava:** silniční, železniční


Základní údaje – pokračování

▶ velká města:

- ▶ ? – Mnichov, Hamburk, Dortmund, Stuttgart, Kolín nad Rýnem, Brémy, Frankfurt, Düsseldorf, Drážďany
- ▶ ? – Salzburg, Linec
- ▶ ? – Curych, Ženeva
- ▶ ? – Krakov, Vratislav, Gdaňsk, Poznaň, Lodž
- ▶ ? – Košice, Bánská Bystrica, Žilina
- ▶ ? – Győr [d'ér], Pécs, Debrecen


Alpy

největší pohoří Evropy



Matterhorn, Švýcarsko

Alpské louky




Turistika a lyžování v Alpách



Berlín



Budova Říšského sněmu, Berlín




Mnichov, Bavorsko




Logo automobilky BMW

Fotbalový stadion FC Bayern



Frankfurt nad Mohanem

jedno z největších letišť na světě



Německá auta

Audi




Volkswagen

Porsche



Opel

Ženeva, Švýcarsko



Vídeň



Schönbrunn



Dóm Sv. Štěpána

Vysoké Tatry, Slovensko

nejvyšší část pohoří Karpaty



Bratislava

hlavní město Slovenska



Děvín – soutok Dunaje a Moravy

Varšava




Krakov, Polsko




Bělověžský národní park, Polsko




Mazurská jezera, Polsko



Mad'arsko



Budapešť



Slovensko

